



Adı Soyadı :

Numarası :

Konu: Genel Değerlendirme 1

- 1 Mert'in 18 tane misketi vardı. Mert misketlerinden 7 tanesini kaybetti. Mert'in kaç misketi kaldı?

A) 9 B) 7 C) 11




- 2 Aşağıdaki çıkarma işlemlerinden hangisinin farkı en büyüktür?

A) $\begin{array}{r} 14 \\ -5 \\ \hline \end{array}$ B) $\begin{array}{r} 12 \\ -8 \\ \hline \end{array}$ C) $\begin{array}{r} 17 \\ -9 \\ \hline \end{array}$

- 3 Yandaki kova aşağıdaki nesnelerden hangisiyle daha çabuk dolar?



A)  B)  C) 





4  +  = 

Yukarıda modellerle gösterilen toplam işleminde "?" işareti ile gösterilen yere hangi sayı gelmelidir?

A) 5 B) 0 C) 1

- 5 Aşağıdaki tabloyu inceleyelim. Soruları cevaplayalım.

Tablo: Hayvanlar

Hayvan	Hayvan sayısı
Arı	
Kelebek	
Uğur Böceği	
Çekirge	

- A) Kelebekler arılardan kaç fazladır?

A) 1 B) 3 C) 2

- B) Uğur böcekleri ile çekirgelerin toplamı kaçtır?

A) 6 B) 7 C) 5

- C) Çekirgeler arılardan kaç tane azdır?

A) 2 B) 3 C) 1

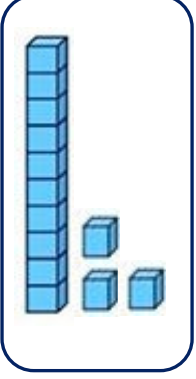
- D) Hayvanların toplam sayısı aşağıdakilerden hangisidir?

A) 13 B) 15 C) 14

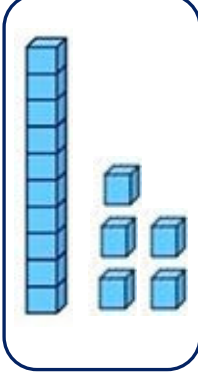
6

Aşağıdaki modellerden hangisi "on beş" sayısını göstermektedir?

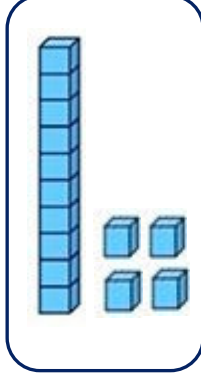
A)



B)



C)



7

Yandaki armutlar kaç yarım armut eder?



A) 8

B) 4

C) 6

8

Aşağıdaki toplama işlemlerinden hangisinin sonucu yanlıştır?

A)

$$\begin{array}{r} 14 \\ + 4 \\ \hline 17 \end{array}$$

B)

$$\begin{array}{r} 13 \\ + 6 \\ \hline 19 \end{array}$$

C)

$$\begin{array}{r} 7 \\ + 8 \\ \hline 15 \end{array}$$

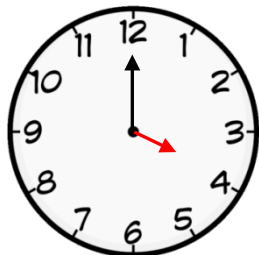
9

Yandaki saati 2 saat geri alınırsa saat kaç olur?

A) İki

B) Dört

C) Üç



10



Yukarıdaki örüntüde boş bırakılan yerlere hangi şekiller gelmelidir?

A)



B)



C)



11

Yukarıdaki kutuda toplam kaç lira vardır?

A) 34 ₺

B) 36 ₺

C) 37 ₺



$$8 + 3 + 5 = \dots$$

12

Yukarıdaki toplama işleminin sonucu kaçtır?

A) 16

B) 12

C) 15

13

Sınıfımızdaki erkek öğrencileri sayısı 6'dır. Kız öğrencilerin sayısı erkeklerden 4 fazladır. Sınıfımızın toplam öğrenci sayısı kaçtır?

A) 18

B) 14

C) 16

